

Неделя дисциплин предметных областей «Математика и информатика», «Технология»



Учитель математики
Гагаринская
Ирина Ивановна



Учитель технологии и физической культуры
Смага Иван Иванович



Учитель информатики и математики
Печенко Виктория Николаевна



Учитель математики
Хестанова
Аида Таймуразовна



**Неделя дисциплин предметных областей
«Математика и информатика», «Технология»
14.03.22-18.03.22**

МКОУ «Тиличикская средняя школа»







Неделя дисциплин предметных областей
«Математика и информатика», «Технология»
14.03.22-18.03.22

МКОУ «Тиллическая средняя школа»



Информационная панель с картой России и текстовыми блоками.







14 марта

Брейн – ринг в 4а+ 4б классах







2021

2022



15 марта

Брейн-ринг в 7а+7б классах









12.11.22
Людмила Катина

СЕРТИФІКАЦІЯ
ПІСЛЯ ДІЯЛЬНОСТІ

Інформаційні повідомлення та оголошення




БРЕЙН - РИНГ
7а - 7б

7.11.22
Психолог. клуб.

15 марта

Брейн-ринг в 8а+8б классах













15 марта Шахматный турнир











16 марта

Брейн-ринг в 5а+5б классах



2021

2022

МАТЕМАТИКА	<u>1</u>	<u>2</u>	<u>3</u>	<u>4</u>	<u>5</u>
информатика	<u>1</u>	<u>2</u>	<u>3</u>	<u>4</u>	<u>5</u>
ТЕХНОЛОГИЯ	<u>1</u>	<u>2</u>	<u>3</u>	<u>4</u>	<u>5</u>

Е Й Н
Н Г

Yellow triangle diagram on a grid board.











БРЕЙН
РИНГ
202



2021

2022

Спасибо за внимание!
С вами очень интересно работать и играть!
До новых встреч!

БРЕЙН
РИНГ



16 марта

Брейн-ринг в 9а+9б классах



2021

20

Брейн-ринг

9а+ 9б



БРЕЙН
РИНГ

Анна Викторовна
Учитель математики



Сидорова Анастасия
Сидорова Анастасия
Сидорова Анастасия
Сидорова Анастасия

Сидорова Анастасия

2021

2022

...и цифр ...
нарисовано число, которое
делится на все числа от 1 до 10
включительно без остатка.
Назовите это число.

	5050	
	1045	
	2520	
	5255	

ответ

БРЕН
РИНГ



A whiteboard with a grid background. It features several yellow geometric shapes: a large right-angled triangle, a smaller right-angled triangle, and a rectangle. A small flag of the Czech Republic is also visible on the board.

2022

ринг 9а+ 9б



2021

2022



16 марта

«Своя игра» в 6а+6б классах





2021

БРЕЙН
РИНГ

№	Имя	Оценки	Среднее	Максимум	Минимум
1	Александров	85, 78, 92, 88, 80	84,6	92	78
2	Иванов	75, 82, 88, 85, 78	81,6	88	75
3	Петров	90, 85, 80, 88, 82	85,0	90	80
4	Сидоров	88, 82, 85, 80, 78	82,6	88	78
5	Климов	78, 85, 82, 80, 75	80,0	85	75
6	Васильев	82, 88, 85, 80, 78	82,6	88	78
7	Попов	85, 80, 88, 82, 85	84,0	88	80
8	Смирнов	80, 85, 82, 88, 85	84,0	88	80
9	Морозов	88, 85, 82, 80, 78	82,6	88	78
10	Куликов	82, 88, 85, 80, 78	82,6	88	78
11	Левин	85, 82, 88, 80, 78	82,6	88	78
12	Зинин	80, 85, 82, 88, 85	84,0	88	80
13	Березин	88, 85, 82, 80, 78	82,6	88	78
14	Воробьев	82, 88, 85, 80, 78	82,6	88	78
15	Антонов	85, 80, 88, 82, 85	84,0	88	80
16	Харин	80, 85, 82, 88, 85	84,0	88	80
17	Колесников	88, 85, 82, 80, 78	82,6	88	78
18	Петухов	82, 88, 85, 80, 78	82,6	88	78
19	Соловьев	85, 80, 88, 82, 85	84,0	88	80
20	Савин	80, 85, 82, 88, 85	84,0	88	80

17 марта Головоломки















ПРИ ПОЖАРЕ
ЗВОНИТЬ 01
112



СИМВОЛЫ КАМЧАТСКОГО КРАЯ

КАМЧАТСКОГО КРАЯ

Символы Камчатского края: Грэмскей, Грэмскей, Грэмскей

Грэмскей

КАМЧАТКА

КАМЧАТКА

ГОСУДАРСТВЕННЫЙ ФЛАГ ГЕРБ РЕСПУБЛИКИ

ГОСУДАРСТВЕННЫЙ ФЛАГ ГЕРБ РЕСПУБЛИКИ



16 марта

Брейн-ринг в 10 +11 классах

информатика



2021

2022

Брейн-ринг

Найти в предложении слова связанные с информацией.
Пример: Электронная документация используется для работы.

Потом они торжественно встали и радовались как дети.
Этот старинный комод ему достался в наследство от бабушки.

По просьбе хозяина квартиры мы шкафу сдвинули в угол.
Режа Динир интересна тем, что на ней имеются несколько гидроэлектростанций.



2021

2021

Брейн-ринг 10 + 11 классы



БРЭЙН
РИНГ





Брейн-ринг
Системная структура имеет управленческие функции организационной структуры?

БРЕЙН
РИНГ
?





2021

2022

Брейн-ринг 10 + 11 классы



БРЭЙН
РИНГ
20



17 марта

«Большая интеллектуальная игра»

в 8- 11 классах




2021

2022

Б р Е й Н
Р И Н Г



БРЕЙН
РИНГ




БРЕЙН
РИНГ



2021

2022



18 марта

Брейн-ринг в 10 +11 классах







2021

Этот знаменитый ученый
измерил высоту египетской
пирамиды, не влезая на неё.

Кто он?



ОТВЕТ

БРЕЙН
РИНГ





SHOT ON REDMI 9
QUAD CAMERA

N REDMI 9
CAMERA



**С вами очень интересно
работать и играть!**

Спасибо за игру!

До новых встреч!