

# ОЛИМПИАДА логика 1 класс

**\*Внимание! Во всех вопросах только один правильный ответ.**

1. Сколько месяцев в каждом времени года?

A	B	C	D
3	7	9	12

2. Вчера была среда, какой день недели будет завтра?

A	B	C	D
среда	четверг	пятница	суббота

3. Что у дерева есть всегда?

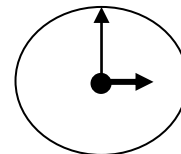
A	B	C	D
пенёк	листья	почки	корни

4. В пруду плескались лягушата и утята. Всего 10 лап. Сколько могло быть утят и лягушат?

A	B	C	D
1 утёнок 1 лягушка	2 лягушки 2 утёнка	3 лягушки 2 утёнка	2 лягушки 1 утёнок

5. Определите время на часах.

A	B	C	D
12 часов	6 часов	3 часа	9 часов



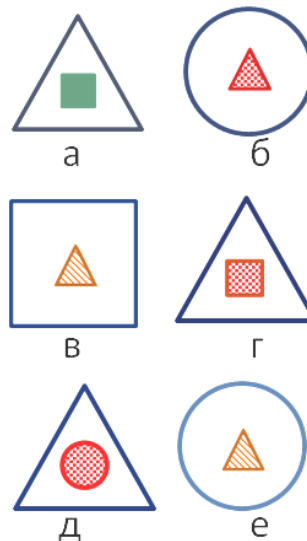
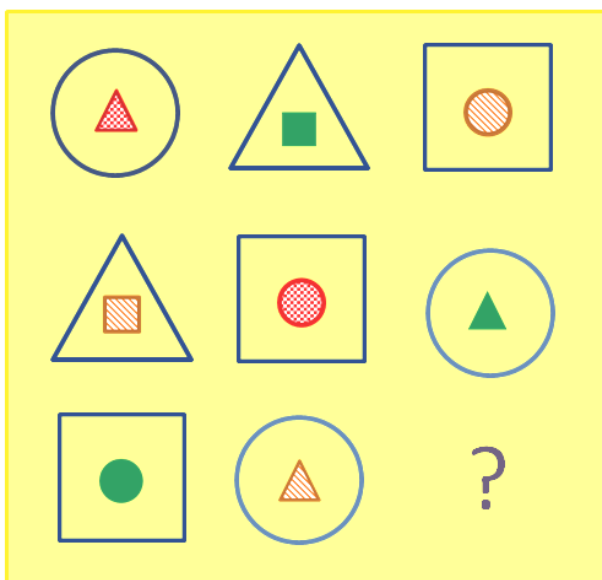
6. Ленточку разрезали в двух местах. Сколько кусков получилось?

A	B	C	D
2	3	4	5

7. Вася ниже Коли, а Толя выше Коли. Кто из мальчиков самый высокий?

A	B	C	D
Вася	Толя	Коля	не знаю

8. Какая фигура должна быть в пустом квадрате?



A	б	B	Г	Д	е
---	---	---	---	---	---



1	2	3	4	5	6	7	8	9	10	11	12	13	14	15
A	C	D	D	C	B	B	Г	A	A	A	C	B	C	-
16	16	16	16	16	16	1	26	16	16	26	16	16	16	26